

uitwerkbijlage

Naam kandidaat _____ Kandidaatnummer _____

Zoals de Waard is maakt ie zijn tenten4 *Omcirkel in de onderstaande zinnen de juiste mogelijkheid.*

Vergeleken met het doek van de rest van de tent is het doek

van het grondzeil per vierkante meter

lichter

zwaarder


Daardoor wordt de berekende oppervlakte

kleiner

groter


Oplaadbare batterijen

6



Spiegel boven de open haard

11



Houd de dief

13 *Omcirkel in de onderstaande zinnen de juiste mogelijkheid.*

Als de deur geopend wordt gaat de magneet weg van het reedcontact.

Hierdoor wordt het reedcontact

geopend

gesloten

Hierdoor gaat er een stroom lopen door de basis.

Hierdoor wordt de transistor

wel

niet

geleidend.

Hierdoor gaat de zoemer

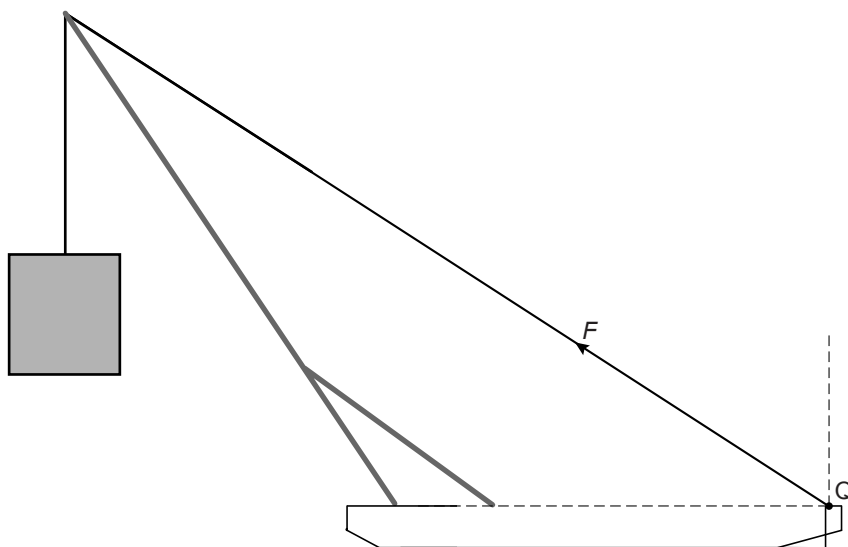
wel

niet

zoemen.

Fietsbrug

17



$$F = 2,0 \cdot 10^6 \text{ N}$$

Vul in:

De horizontale component van $F = \dots\dots\dots$ N

IJsplaat

29 *Omcirkel in de onderstaande zin de juiste mogelijkheden.*

De ijsschots

| |
|--------|
| drijft |
| zinkt |
| zweeft |

 omdat de dichtheid van ijs

| |
|---------|
| gelijk |
| groter |
| kleiner |

 is dan de dichtheid van water.

Bommetje

31 *Omcirkel in de onderstaande zinnen de juiste mogelijkheid.*

In een gestrekte houding bevindt het zwaartepunt zich

| | | |
|----------------------|--------------------------------------|----------------------|
| bij het hoofd | in het midden van het lichaam | bij de voeten |
|----------------------|--------------------------------------|----------------------|

In de bommetjeshouding bevindt het zwaartepunt zich

| | |
|-----------------------------|-------------------------------|
| meer aan de voorkant | meer aan de achterkant |
|-----------------------------|-------------------------------|

 van het lichaam.

Ooglaseren in plaats van een bril?

36



37 *Omcirkel in de onderstaande zinnen de juiste mogelijkheid.*

Een voorwerp bevindt zich 50 cm voor het oog.
Het wordt nu dichterbij het oog gebracht.

Nu wordt de voorwerpsafstand

| | |
|---------------|----------------|
| groter | kleiner |
|---------------|----------------|

Daardoor wordt de beeldsafstand

| | |
|---------------|----------------|
| groter | kleiner |
|---------------|----------------|

Dus wordt het beeld gevormd

| | |
|-------------|---------------|
| voor | achter |
|-------------|---------------|

 het netvlies.

VERGEET NIET DEZE UITWERKBIJLAGE IN TE LEVEREN