

Uitwerkbijlage VMBO-GL en TL
2006

tijdvak 1

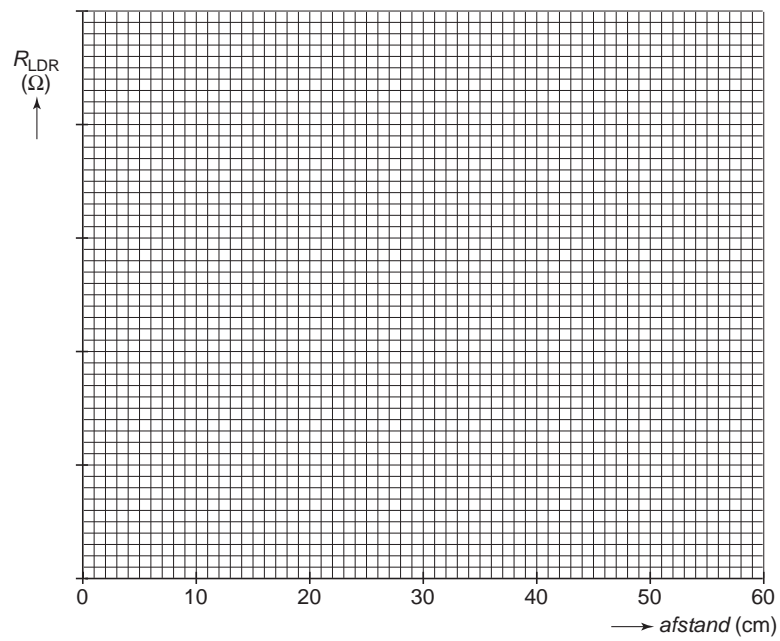
NATUUR- EN SCHEIKUNDE 1 CSE GL EN TL

Naam kandidaat _____ Kandidaatnummer _____

VERGEET NIET DEZE UITWERKBIJLAGE IN TE LEVEREN

PRAKTISCHE OPDRACHT MET LDR

6

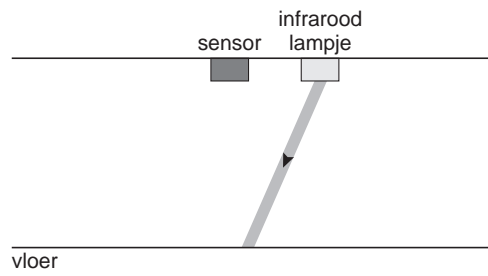


FOTOTOESTEL MET VIER LENZEN

12



19



Conclusie:

.....
.....

Uitleg:

.....
.....
.....

FLUISTERASFALT

23 Omcirkel in de onderstaande zinnen de juiste mogelijkheid.

Het geluidsniveau op ZSA is

3
6
16

 dB lager.

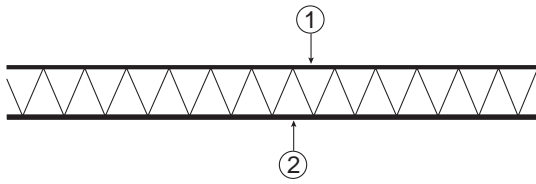
De geluidsenergie op ZSA is

meer dan 2 keer
precies 2 keer
minder dan 2 keer

 zo klein.

TORENKRAAN

35 Omcirkel in de onderstaande zinnen de juiste mogelijkheid.



In de bovenste buis 1 werkt een

trekkracht.
duwkracht.

In onderste buis 2 werkt een

trekkracht.
duwkracht.

VERGEET NIET DEZE UITWERKBIJLAGE IN TE LEVEREN